

**Фонд оценочных средств для промежуточной аттестации обучающихся  
по учебному предмету «Окружающий мир»  
(типовой вариант)  
(2-4 классы)**

Обязательная часть учебного плана.

Предметная область: Обществознание и естествознание «Окружающий мир»



3) природные явления                      4) деятельность человека

13. Что не относится к явлениям природы?

- 1) буран                                      2) полив растений  
3) ледостав                                 4) осадки

14. Что относится к явлениям неживой природы?

- 1) цветение                                 2) рождение  
3) дыхание                                 4) восход солнца

15. Как называется наука о погоде?

- 1) метеорология                      2) экология                      3) биология                      4) физика

16. Какие птицы не улетают на юг?

- 1) зяблики                      2) дятлы                      3) гуси                      4) чайки

17. Какое место занимает в комнате воздух ?

- 1) потолок                      2) пол                      3) у окна                      4) всю комнату

18. Что такое ветер?

- 1) движение воздуха                      2) похолодание                      3) движение туч                      4) сжатие воздуха

19. Какого цвета воздух?

- 1) белого                      2) голубого                      3) он бесцветный                      4) серого

20. Самое опасное для здоровья загрязнение воды происходит:

- 1) из-за остатков пищи, попавших в воду  
2) из-за вредных веществ, выбрасываемых заводами и фабриками  
3) из-за попадания песка и глины  
4) из-за дождей

21. Как очищается использованная вода?

- 1) в трубах                      2) в земле                      3) на очистных сооружениях                      4) очищается сама

22. Почему на Земле сменяется день и ночь?

- 1) Земля имеет шарообразную форму                      3) Земля вращается вокруг своей оси  
2) Земля вращается вокруг Солнца                      4) Солнце вращается вокруг Земли

23. Что относится к общественным учреждениям?

- 1) улица                      2) город                      3) жилой дом                      4) библиотека

**Итоговый тест за 1 четверть по окружающему миру. 2 класс.**

**Вариант 2.**

**Часть 1**

1. Напиши, как тебя зовут:

Фамилия \_\_\_\_\_ имя \_\_\_\_\_  
отчество \_\_\_\_\_

2. Дата моего рождения: число \_\_\_\_\_ месяц \_\_\_\_\_ год \_\_\_\_\_

3. Я проживаю по адресу: улица \_\_\_\_\_  
дом № \_\_\_\_\_ квартира № \_\_\_\_\_

4. Страна, в которой ты живёшь, называется \_\_\_\_\_

5. Столица твоей страны \_\_\_\_\_

6. Город, в котором ты живёшь \_\_\_\_\_

7. В моём городе течёт река (если есть) \_\_\_\_\_.

**Часть 2**

8. В какой строке перечислены символы России?

- 1) герб, флаг, гимн                                      2) ) гимн, граница, флаг  
3) национальность, язык, гимн, флаг

9. Что такое природа?

- 1) все живые существа  
2) всё, что окружает человека  
3) всё, что окружает человека и не сделано его руками  
4) всё, что сделано руками человека

10. Что относится к неживой природе?

- 1) дерево                      2) гриб                      3) озеро                      4) рыба

11. Что относится к живой природе?

- 1) вулкан                      2) сосулька                      3) ) солнце                      4) гриб

12. Как по- другому можно назвать понятия: листопад, молния, перелёт птиц?

- 1) климат
- 2) природные явления
- 3) неживая природа
- 4) деятельность человека

13. Что не относится к явлениям природы?

- 1) заморозки
- 2) полив растений
- 3) радуга
- 4) осадки

14. Как называется наука о погоде?

- 1) метеорология
- 2) экология
- 3) зоология
- 4) астрономия

15. Какие птицы не улетают на юг?

- 1) грачи
- 2) синицы
- 3) гуси
- 4) чайки

16. Какое место занимает в комнате воздух ?

- 1) около кровати
- 2) пол
- 3) у окна
- 4) всю комнату

17. Что такое ветер?

- 1) движение воздуха
- 2) похолодание
- 3) движение туч
- 4) сжатие воздуха

18. Какого цвета воздух?

- 1) белого
- 2) голубого
- 3) он бесцветный
- 4) серого

19. Как очищается использованная вода?

- 1) в земле
- 2) в трубах
- 3) очищается сама
- 4) на очистных сооружениях

20. Что относится к явлениям неживой природы?

- 1) цветение
- 2) рождение
- 3) дыхание
- 4) восход солнца

21. Самое опасное для здоровья загрязнение воды происходит:

- 1) из-за остатков пищи, попавших в воду
- 2) из-за вредных веществ, выбрасываемых заводами и фабриками
- 3) из-за попадания песка и глины
- 4) из-за дождей

22. Укажи причину изменения температуры воздуха в течение года

- 1) Вращение Земли вокруг своей оси
- 2) Изменение высоты Солнца над горизонтом
- 3) Изменение вида осадков

4) Вращение Земли вокруг Солнца

23. Определи вещество по его свойствам.

Прозрачный, бесцветный, твёрдый, холодный на ощупь, тает в тепле – это

\_\_\_\_\_.


**Итоговый тест по окружающему миру, 2 \_\_ класс II четверть**

Ф.И. \_\_\_\_\_ Дата \_\_\_\_\_ Вариант 1

1. Соедини стрелками:

*Природа*

*Рукотворный мир*



2. Заполни таблицу:

	Относится к природе	Создано человеком
Светит		
Плавает		
Летает		

3. Соедини стрелками:

*Объекты живой природы*

Град  
Трава  
Лиса  
Кошка  
Река  
Дождь

*Объекты неживой природы*

4. Вспомни, что такое погода. Выбери и подчеркни из предложенных слов те, по которым можно рассказать о погоде: *большая, температура, осадки, облачность, широкая, ветер, квадрат.*

5. Вспомни группы растений. Здесь спрятались названия трёх групп растений. Найди их и закрась клеточки с буквами карандашами разного цвета.

Е	Р	У	В	Т	Я	Р	Р	И	В	И
Д	К	Е	С	Ь	А	Т	Н	А	К	Ы

6. Приведи по три примера:

*Дикорастущие растения:*

*Культурные растения:*

\_\_\_\_\_  
\_\_\_\_\_  
\_\_\_\_\_

\_\_\_\_\_  
\_\_\_\_\_  
\_\_\_\_\_

7. Соедини стрелками диких и домашних животных:

*Дикие*

*Домашние*



8. Запиши названия комнатных растений \_\_\_\_\_

9. Приведи примеры пород собак \_\_\_\_\_

10. Как сберечь воду? Выдели правильный ответ:

г) Не купаться;    в) Закрывать кран;    б) Не мыть посуду; а) Не чистить зубы.

11. Установи соответствие:

Звери	две ноги, два крыла, перья
Насекомые	четыре ноги, шерсть
Рыбы	шесть ног
Птицы	плавники, чешуя

12. Запиши по 3 примера:

1) насекомые - \_\_\_\_\_  
2) звери - \_\_\_\_\_  
3) рыбы - \_\_\_\_\_  
4) птицы - \_\_\_\_\_

13. Что называют невидимыми нитями в природе?

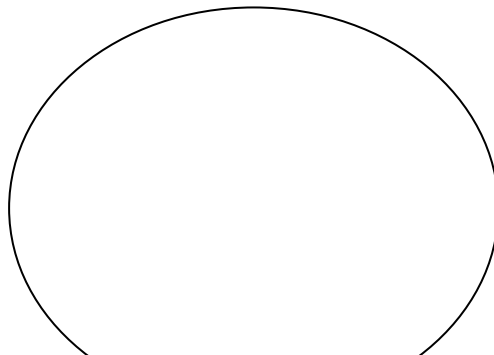
а) Паутина в лесу;    б) Корни деревьев;    в) Связи в природе.

14. Соедини стрелками, что получает человек от домашних животных?

куры	Молоко, сыр, масло.
пчёлы	Мясо, яйца.
овцы	Мёд, прополис.
корова	Шерсть, мясо.

15. Запиши растения и животных, занесённых в Красную книгу \_\_\_\_\_

16. Нарисуй экологический знак на тему «Будь природе другом!». Дай ему название.



3 класс

*Итоговый тест по окружающему миру*

Ф.И. \_\_\_\_\_ Дата \_\_\_\_\_ Вариант 2

1. Соедини стрелками:

*Природа*

*Рукотворный мир*



2. Заполни таблицу:

Кто? Что?	Относится к природе	Создано человеком
Светит		
Плавает		
Летает		

3. Соедини стрелками:

*Объекты живой природы*

Снег  
Дерево  
Заяц  
Сова  
Камень  
Облако

*Объекты неживой природы*

4. Вспомни, что такое погода. Выбери и подчеркни из предложенных слов те, по которым можно рассказать о погоде: *температура, большая, облачность, широкая, ветер, квадрат, осадки.*

5. Вспомни группы растений. Здесь спрятались названия трёх групп растений. Найди их и закрась клеточки с буквами карандашами разного цвета.

Е	Р	У	В	Т	Я	Р	Р	И	В	И
Д	К	Е	С	Ь	А	Т	Н	А	К	Ы

6. Приведи по три примера:

*Дикорастущие растения:*

*Культурные растения:*

\_\_\_\_\_

\_\_\_\_\_




\_\_\_\_\_

\_\_\_\_\_

7. Соедини стрелками диких и домашних животных:

*Дикие*

*Домашние*



8. Запиши названия комнатных растений \_\_\_\_\_

9. Приведи примеры пород собак \_\_\_\_\_

10. Как сберечь воду? Выдели правильный ответ:

г) Не купаться; б) Не мыть посуду; в) Закрывать кран; а) Не чистить зубы.

11. Установи соответствие:

Звери \_\_\_\_\_ две ноги, два крыла, перья

Рыбы \_\_\_\_\_ четыре ноги, шерсть

Насекомые \_\_\_\_\_ шесть ног

Птицы \_\_\_\_\_ плавники, чешуя

12. Запиши по 3 примера:

1) звери - \_\_\_\_\_

2) птицы - \_\_\_\_\_

3) рыбы - \_\_\_\_\_

4) насекомые - \_\_\_\_\_

13. Что называют невидимыми нитями в природе?

а) Паутина в лесу; в) Связи в природе; б) Корни деревьев.

14. Соедини стрелками, что получает человек от домашних животных?

куры

Молоко, сыр, масло.

корова

Мясо, яйца.

овцы

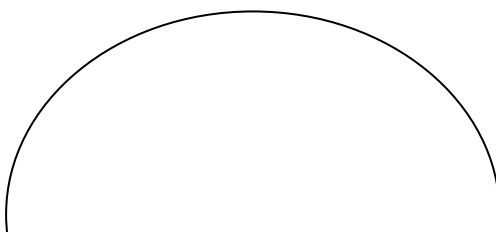
Мёд, прополис.

пчёлы

Шерсть, мясо.

15. Запиши растения и животных, занесённых в Красную книгу \_\_\_\_\_

16. Нарисуй экологический знак на тему «Будь природе другом!». Дай ему название.



---

**Оценивание:**

**Задание 1** – 2 балла (1 ошибка – 1 балл, 2 ошибки – 0 баллов)

**Задание 2** – 2 балла (1 ошибка – 1 балл, 2 ошибки – 0 баллов)

**Задание 3** – 2 балла (1 ошибка – 1 балл, 2 ошибки – 0 баллов)

**Задание 4** – 4 балла (за каждый правильный ответ: *температура, облачность, осадки, ветер*)

**Задание 5** – 3 балла (за каждый правильный ответ: *деревья, кустарники, травы*)

**Задание 6** – 2 балла (1 ошибка – 1 балл, 2 ошибки – 0 баллов)

**Задание 7** – 2 балла (1 ошибка – 1 балл, 2 ошибки – 0 баллов)

**Задание 8** – 1 балл (за правильный ответ)

**Задание 9** – 1 балл (за правильный ответ)

**Задание 10** – 1 балл (за правильный ответ: *закрывать кран*)

**Задание 11** – 2 балла (1 ошибка – 1 балл, 2 ошибки – 0 баллов)

**Задание 12** – 4 балла (за каждый правильный ответ 1 балл)

**Задание 13** – 1 балл (за правильный ответ: *связи в природе*)

**Задание 14** – 2 балла (1 ошибка – 1 балл, 2 ошибки – 0 баллов)

**Задание 15** - 1 балл (за правильный ответ)

**Задание 16** – 1 балл (за правильный ответ)

**Отметки:**

«5» - 28 – 31 балла.

«4» - 21 - 27 баллов.  
«3» - 14 – 20 баллов.  
«2» - 13 и менее баллов

**4 класс**

**Итоговый тест**

Вариант 1

А 1. Что такое линия горизонта?

- 1) всё, что мы видим вокруг  3) граница горизонта, где небо как бы сходится с землёй  
 2) граница между сушей и водой  4) поверхность Земли

А 2. Что такое компас?

- 1) спортивное снаряжение  
 2) прибор для определения сторон горизонта  
 3) прибор для определения температуры воздуха  
 4) прибор для определения погоды

А 3. Как называются горы, расположенные рядами?

- 1) горные хребты  2) холмы  3) овраги  4) балки

А 4. В каком городе находятся президент и правительство нашей страны?

- 1) в Санкт-Петербурге  3) в Нижнем Новгороде  
 2) в Москве  4) в Калуге

А 5. Где расположена наша страна?

- 1) в Южной Америке  2) в Африке  3) в Австралии  4) в Евразии

А 6. Сколько океанов на Земле?

- 1) четыре  2) пять  3) шесть  4) семь

А 7. В каком году состоялся первый полёт человека в космос?

- 1) в 1949  2) в 1961  3) в 1998  4) в 2008

А 8. Укажи зимние месяцы.

- 1) сентябрь, октябрь, ноябрь  3) март, апрель, май  
 2) декабрь, январь, февраль  4) июнь, июль, август

В 1. В какую сторону надо выходить из леса, если заходил туда, двигаясь на юг?

- 1) на север  2) на запад  3) на восток  4) на юг

В 2. Как называется место, отмеченное на рисунке?

- 1) устье  2) берег  3) исток  4) приток

В 3. Укажи вид бабочек.

1) солдатики  2) крапивница  3) вертячка  4) бронзовка

С 1. Какие города находятся не в России?

1) Дели  2) Токио  3) Таруса  4) Лондон

С 2. Какие горы есть в нашей стране?

1) Кавказские  2) Альпы  3) Алтай  4) Уральские

### *Итоговый тест*

#### Вариант 2

А 1. Что не является стороной горизонта?

1) север  2) юг  3) закат  4) восток

А 2. Какой конец стрелки компаса должен показывать на север?

1) любой  2) синий  3) красный  4) чёрный

А 3. Укажи название неровных участков земной поверхности, которые сильно возвышаются над окружающей местностью.

1) холмы  2) овраги  3) равнины  4) горы

А 4. Как называют углубление, по которому течёт река?

1) приток  2) устье  3) исток  4) рукав

А 5. Где изображён двуглавый орёл?

1) на флаге России  3) на гербе России

2) на флаге Москвы  4) на гербе Москвы

А 6. Какая достопримечательность находится в Москве?

1) Исаакиевский собор  3) Петропавловская крепость

2) Эрмитаж  4) Большой театр

А 7. Какой космонавт совершил первый полёт в космос?

1) В. Терешкова  3) А. Леонов

2) Ю. Гагарин  4) Н. Армстронг

А 8. Какая температура воздуха характерна для летнего дня?

1) +10 °С  2) 0°С  3) +5 °С  4) +25°С

В 1. Какое утверждение верно?

1) Заморозков никогда не бывает весной.

2) Весной на реке появляется лёд.

3) Весной появляются проталины.

4) Птицы весной запасают корм на зиму.

В 2. Какие горы находятся не в нашей стране?

1) Кавказские  2) Уральские  3) Анды  4) Алтай

В 3. Какие цветы цветут на клумбе летом?

1) флоксы  2) гладиолусы  3) георгины  4) астры

С 1. С какой стороны ты зашёл в лес, если выходишь из него на северо-востоке?

1) с юго-востока  3) с северо-востока

2) с юго-запада  4) с северо-запада

С 2. Через какие континенты не проходит экватор?

1) через Африку  3) через Южную Америку

2) через Евразию  4) через Австралию